

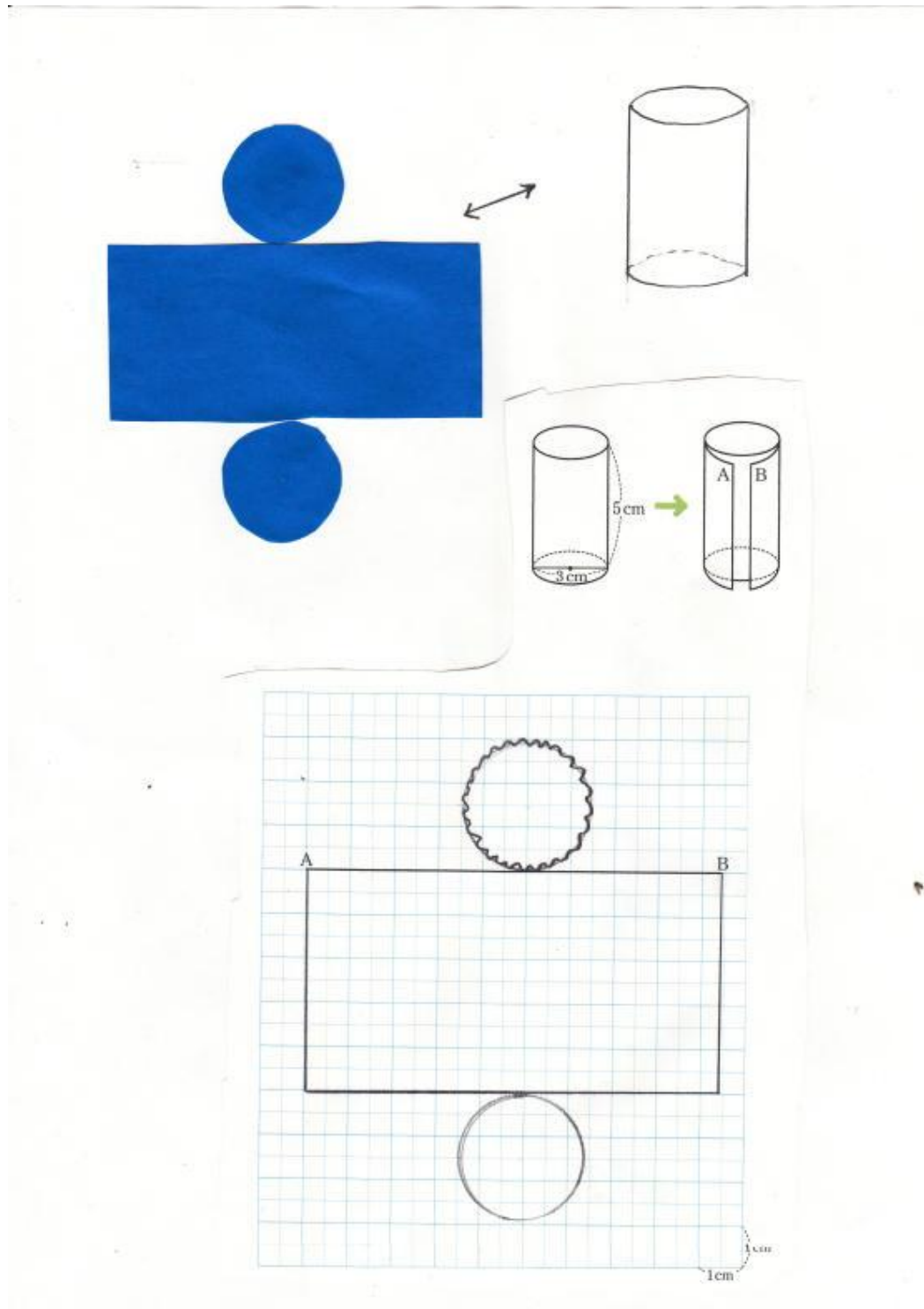
P 1 7 2 □円柱と円錐

ひろげよう 「ひろげようを読んでください。」

円柱の形をした入れ物に入ったお菓子は何かありますか？（実物を見せるといい）

円柱の見取図と展開図を書いて見ましょう。

「手順」を指示しながらいっしょに書くといい）

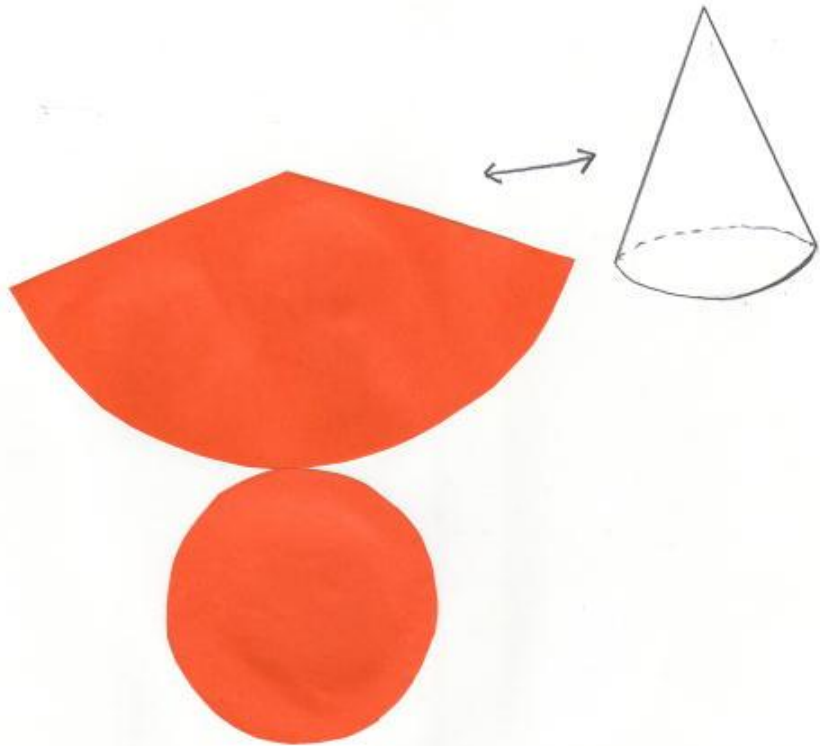


P174 ひろげよう

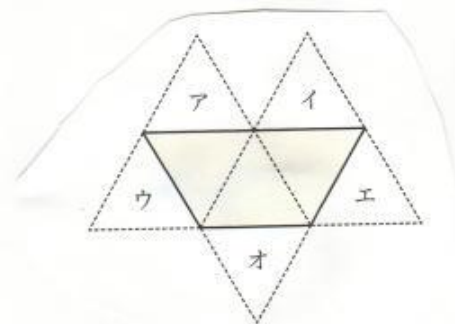
円錐の形をしたお菓子はなにがありますか？

(実物を見せるといい)

手順を示しながら見取図と展開図をいっしょに書くといい。



練習問題



練習問題は実際にこの図を書いた用紙を印刷して配布しはさみで切って組み立てることをやってみさせるとよい。

一人に3枚程度配布したい。はさみを準備させる。